







ВСЕРОССИЙСКИЙ
ДИСТАНЦИОННЫЙ КОНКУРС
ДЛЯ УЧЕНИКОВ НАЧАЛЬНЫХ
КЛАССОВ "НАУКОГРАД"

 ngkonkurs.ru

 naukograd-konkurs@mail.ru

 +7 (3852) 25-19-93

 vk.com/naukogradkonkurs

ПРИМЕРЫ ЗАДАНИЙ

ОКРУЖАЮЩИЙ МИР

3 КЛАСС

1. Укажи, к какой системе органов относятся бронхи.

- А) к дыхательной
- Б) к пищеварительной
- В) к нервной
- Г) к опорно-двигательной

2. Третьеклассники рассказывали о знаках сервиса. С кем из ребят ты согласишься?

Илья сказал: «Знаки сервиса предупреждают водителя о каких-то опасностях на дороге».

Олег сказал: «Знаки сервиса сообщают водителю об остановках, стоянках, переходах».

Семён сказал: «Знаки сервиса показывают водителю, где можно поесть, отдохнуть, получить медицинскую помощь и т.д.»

- А) с Ильей
- Б) с Олегом
- В) с Семёном
- Г) не соглашусь ни с кем

3. Найди неверное высказывание.

- А) Деньги – особый товар.
- Б) Доллар – денежная единица стран Европы.
- В) Бартер – обмен одних товаров на другие.
- Г) Название «рубль» произошло от слова «рубить».



4. Закончи фразу.

Стиральные порошки, пластмассу, резину, краски производит ... промышленность.

- А) легкая
- Б) тяжёлая
- В) пищевая
- Г) химическая

5. Какая электростанция вырабатывает электричество за счёт потока воды, падающей с плотины?

- А) ГЭС
- Б) ТЭС
- В) АЭС
- Г) ТЭЦ